

Actividad: Semana 9, Clase 1 Séptimo

nombre

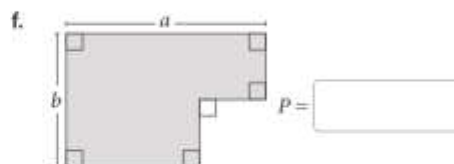
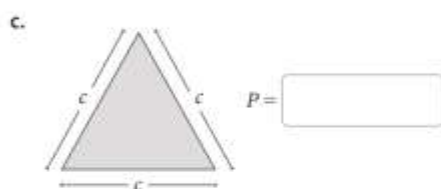
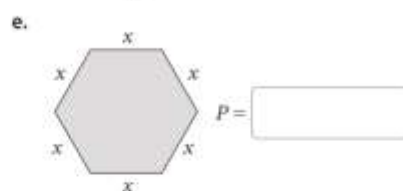
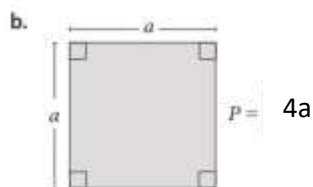
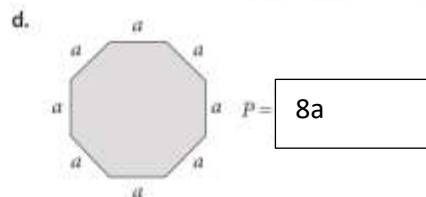
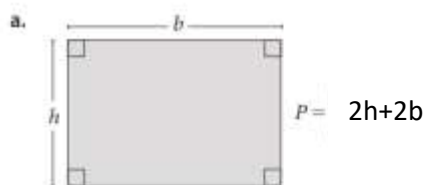
curso fecha



Objetivo: Representar algebraicamente

1.-

Geometría Representa algebraicamente el perímetro (P) de cada figura geométrica. Ministerio de Educación
 Proyecto Simón Bolívar - Marzo 2020



2.-

Remarca la expresión correspondiente a un término general en cada secuencia. Considera $n \in \mathbb{N}$.

a. Secuencia numérica: 5, 7, 9, 11, ...

Término general:

$2n + 1$

$2n + 2$

$2n + 3$

b. Secuencia numérica: 1, 4, 7, 10, ...

Término general:

$3n - 1$

$3n - 2$

$3n - 3$

c. Secuencia numérica: 2, 7, 12, 17, ...

Término general:

$5n - 1$

$5n - 2$

$5n - 3$

d. Secuencia numérica: 5, 9, 13, 17, ...

Término general:

$4n + 1$

$4n + 2$

$4n + 3$