

## Actividad 1: Semana 9 Clase 3, Matemática Sexto A y B

nombre... Haz clic aquí

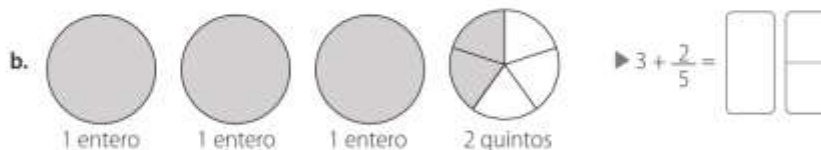
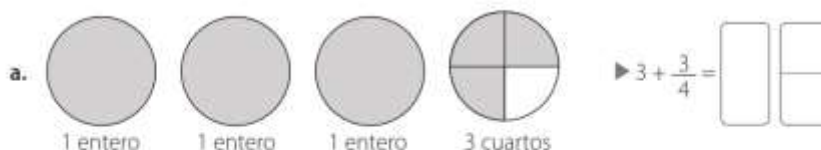
curso ... Haz clic aquí fecha ... Haz clic aquí



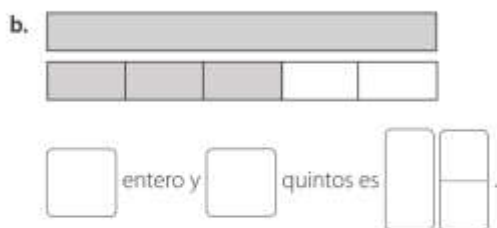
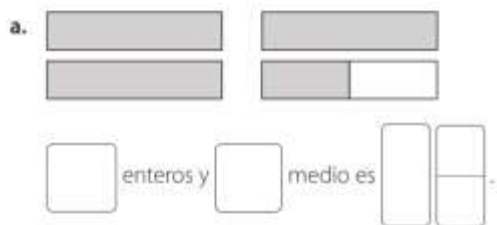
► Objetivo: Escribir y comparar números mixtos.

### Números mixtos

1. Escribe un número mixto para cada modelo.



2. Escribe un número mixto para cada modelo.

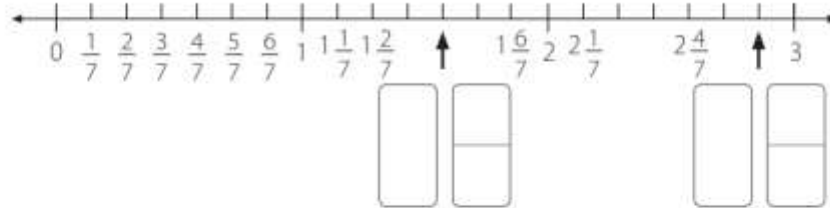


3. Encierra la representación que corresponda a cada número mixto.

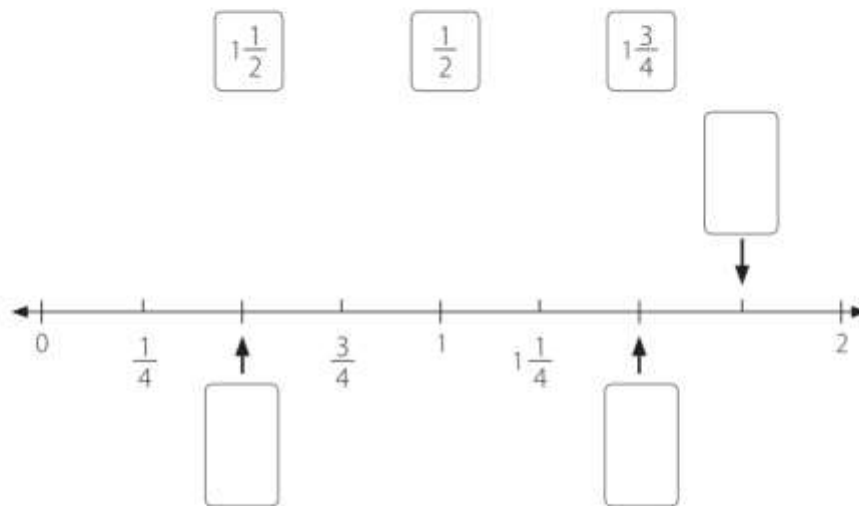




4. Completa la recta numérica con el número mixto que corresponda.



5. Completa la recta numérica con la siguiente fracción y números mixtos.



6. Completa cada recta numérica con las fracciones o números mixtos que correspondan.

