

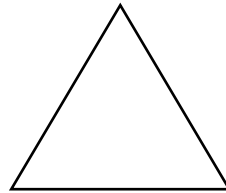
Evaluación

Marca con una X sobre la alternativa correcta.

1 Si un cuadrado tiene un perímetro de 20 cm. ¿Cuál es la medida de cada lado?

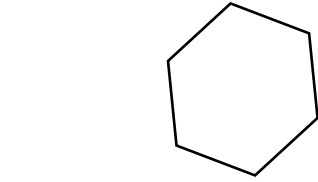
- | | |
|---|---------------------|
| A | Cada lado mide 6 cm |
| B | Cada lado mide 4 cm |
| C | Cada lado mide 5 cm |

2 Si un triángulo con todos los lados de igual medida tiene un perímetro de 24 cm, ¿cuál es la medida de sus lados?

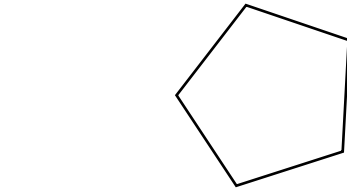


- | | |
|---|---------------------|
| A | Cada lado mide 9 cm |
| B | Cada lado mide 8 cm |
| C | Cada lado mide 7 cm |

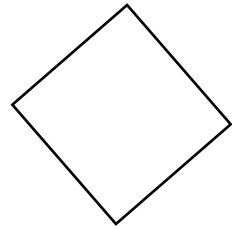
Si cada lado de una figura regular mide 4 cm y su perímetro es de 20 cm. ¿Qué figura regular es?



A



B



C

4

Si el perímetro de una figura regular es de 42 cm y sus lados tienen una medida exacta, ¿qué figura es?

