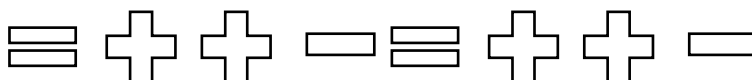




### Evaluación

Marca con una X sobre la alternativa correcta.

1 ¿Cuál es el punto de partida de este patrón?




A El signo más

B El signo igual

C El signo menos

2 ¿Cuál es la regla del patrón, para la siguiente secuencia?



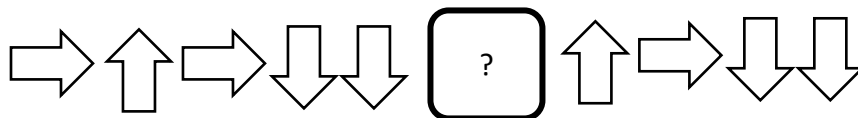
A La regla del patrón es rayo, luna, rayo, sol, rayo.

B La regla del patrón es luna, sol, sol, rayo, rayo.

C La regla del patrón es luna, sol, rayo, rayo.




3 Observa la secuencia y selecciona la figura que falta según el patrón.



4 ¿Cuáles son los términos que continúan en la secuencia?

1, 2, 1, 3, 1, 4, 1, 5, 1, 2, 1, 3, , , ,



1, 2, 1, 3, 1, 4, 1, 5

1, 2, 1, 3

1, 4, 1, 5