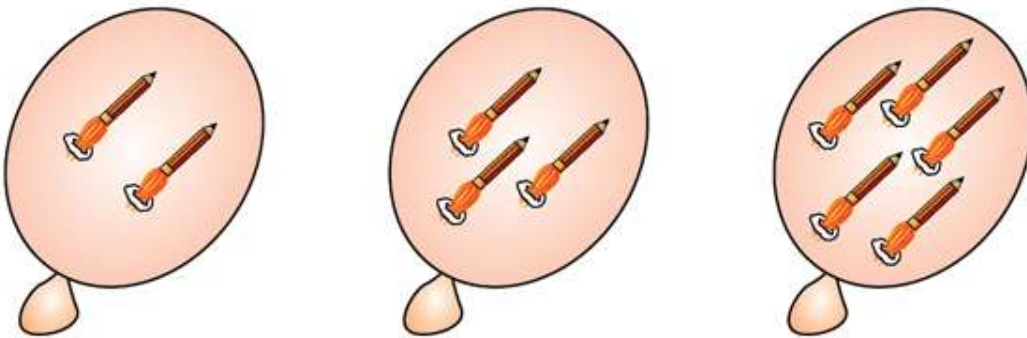





**GUIA DE MATEMATICA**  
**Semana del 15 -22 de marzo 2021**

Nombre	Curso 2° A - B	Fecha
<b>OA :</b> Reforzar adiciones de forma pictórica, a través de la guía de estudio, para resolver problemas y comunicar resultados de manera ordenada		
<b>Habilidades:</b> Resolver problemas, argumentar y comunicar		
<b>Profesoras:</b> Nora Garcia – Pamela Tillerias		

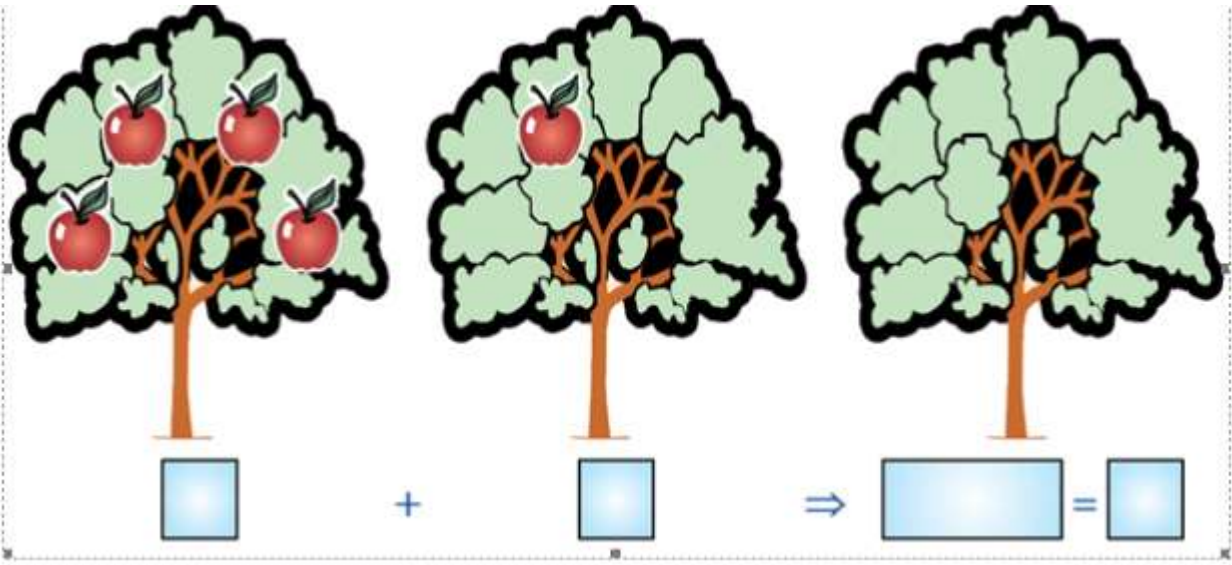
1. Observa los dibujos y realiza las siguientes adiciones:



$$\boxed{2} + \boxed{3} \Rightarrow \boxed{2 + 3} = \boxed{5}$$



$$\boxed{\phantom{0}} + \boxed{\phantom{0}} \Rightarrow \boxed{\phantom{0 + 0}} = \boxed{\phantom{0}}$$





GUIA DE MATEMATICA  
Semana del 15 -22 de marzo 2021

Nombre	Curso 2° A- B	Fecha
OA 09 :Completar los dibujos según lo que indican los sumandos, luego suma para obtener los resultados y comunicarlos		
Habilidades: Resolver problemas, argumentar y comunicar		
profesoras: Nora Garcia		Pamela Tillerias

Semana 15 – 20 marzo 2021

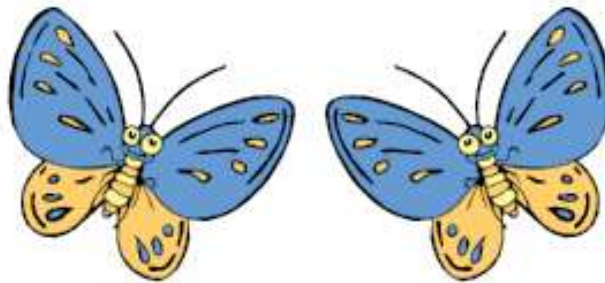
Completa las bolitas de las mariposas de acuerdo a lo que indican los sumandos y realiza las adiciones.



$5 + 3 = \underline{\quad}$

$6 + 2 = \underline{\quad}$

$3 + 4 = \underline{\quad}$



$2 + 4 = \underline{\quad}$

$2 + 3 = \underline{\quad}$

$5 + 5 = \underline{\quad}$



GUIA DE ESTUDIO MATEMATICA  
Semana del 15 -22 de marzo 2021

Nombre	Curso 2° A- B	Fecha
OA 09 Completa con el numeral que falta, respetando la secuencia de cada una de las filas, de esa manera poder ejercitar secuencia numérica		
Habilidades Resolver problemas, argumentar y comunicar		
Profesoras Nora Garcia Pamela Tillerias		

1. Coloca en cada cuadrado el numeral que falta.

0	1			4		6		8	9
		2	3	4			7		9
	1		3		5			8	
0	1	2	3			6	7		
		2		4	5				9
0					5	6		8	
0	1						7		
		2		4		6		8	
	1		3		5				
0						6	7		




# GUIA DE ESTUDIO MATEMATICA

Semana del 15 al 22 de marzo 2021

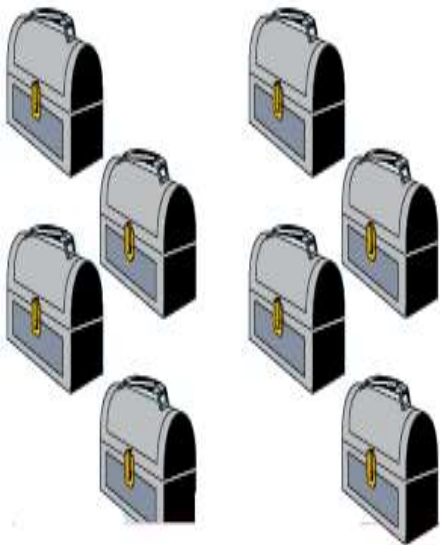
Nombre	Curso 2° A- B	Fecha
OA 09 Cuenta de manera secuencial las imágenes en la guía, observa los sumandos, escribe el resultado en los casilleros, para ejercitar la adición en forma pictórica		
Habilidades Resolver problemas, argumentar y comunicar		
Profesoras Nora García V. Pamela Tillerias		



$$3 + 2 = \boxed{\phantom{00}}$$



$$5 + 5 = \boxed{\phantom{00}}$$








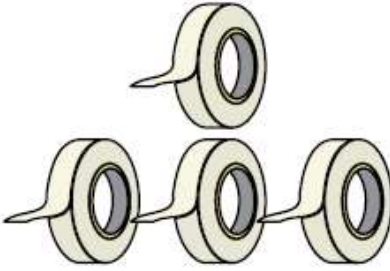
$$4 + 4 = \boxed{\phantom{00}}$$



$$3 + 4 = \boxed{\phantom{00}}$$



Completa y resuelve las adiciones en forma vertical, sigue el ejemplo:

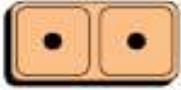

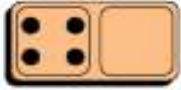






 $\begin{array}{r} \square + \\ 4 + \\ \square \\ \hline \square \end{array}$	 $\begin{array}{r} \square + \\ \square \\ \hline \square \end{array}$
 $\begin{array}{r} \square + \\ \square \\ \hline \square \end{array}$	 $\begin{array}{r} \square + \\ \square \\ \hline \square \end{array}$
 $\begin{array}{r} \square + \\ \square \\ \hline \square \end{array}$	 $\begin{array}{r} \square + \\ \square \\ \hline \square \end{array}$



**GUIA DE ESTUDIO MATEMATICA**  
Semana 15 al 22 de marzo 2021

Nombre	Curso 2° A- B	Fecha
<b>OA 09</b> Cuenta los puntitos de cada dominó, coloca el numeral en los cuadraditos y luego realiza las adiciones correspondientes, para comunicar los resultados		
<b>Habilidades</b> Resolver problemas, argumentar y comunicar		
<b>Profesora :</b> Nora Garcia – Pamela Tillarías		

Cuenta cada puntito de los dominos, escríbelos en el recuadro, suma de manera horizontal y vertical y escribe su resultado

 <input type="text"/> + <input type="text"/> = <input type="text"/>	 + <input type="text"/> <input type="text"/> <hr style="width: 50%; margin-left: 0;"/> <input type="text"/>	 <input type="text"/> + <input type="text"/> = <input type="text"/>
 <input type="text"/> + <input type="text"/> = <input type="text"/>	 + <input type="text"/> <input type="text"/> <hr style="width: 50%; margin-left: 0;"/> <input type="text"/>	 + <input type="text"/> <input type="text"/> <hr style="width: 50%; margin-left: 0;"/> <input type="text"/>
 <input type="text"/> + <input type="text"/> = <input type="text"/>	 + <input type="text"/> <input type="text"/> <hr style="width: 50%; margin-left: 0;"/> <input type="text"/>	 <input type="text"/> + <input type="text"/> = <input type="text"/>